

## 一、单选题

1.明清时期，由于大量种植经济作物，很多地区粮食不能自给，如松江地区种稻之地只占 1/3，每年都从外地运进大量粮食。这一现象（ ）

- A.造成了土地的兼并
- B.推动农产品商品化
- C.阻碍了农业的发展
- D.导致了严重的饥荒

答案：B

2.自 1899 年以来，在殷墟出土了有字甲骨 10 万片以上，这些刻在龟甲和兽骨上的文字已经形成了完整的汉字体系，被称为甲骨文。甲骨文的主要内容是（ ）

- A.地方文书
- B.占卜记录
- C.神话传说
- D.法律规范

答案：B

3.东汉末年，军阀割据，长期战乱，出现了“白骨露于野，千里无鸡鸣”的凄惨景象。重新统一国家的是（ ）

- A.蜀汉
- B.西晋
- C.曹魏
- D.东吴

答案：B

4.中国历史上有很多经济发展、政治清明的“治世”，其中发生在西汉的是（ ）

- A.文景之治
- B.贞观之治
- C.光武中兴
- D.开元盛世

答案：A

5.隋炀帝好大喜功，追求奢侈，每月役使的丁男达二百多万，从江南征调木、石、花、草、禽、兽等运至洛阳，用以布置宫苑。这些做法的后果是（ ）

- A.提高皇帝个人声望
- B.促进社会经济发展
- C.推动中外文化交流
- D.导致社会矛盾激化

---

答案：D

6.1842 年以后，在我国被迫开放的各通商口岸中，上海的对外贸易增长最快，19 世纪 50 年代已超过广州。与这一现象相关的不平等条约是（ ）

- A.《辛丑条约》
- B.《南京条约》
- C.《马关条约》
- D.《北京条约》

答案：B

7.1955 年 7 月，全国人民代表大会一届二次会议正式通过由周恩来、陈云等主持编制的第一个五年计划。属于“一五”计划重点建设的是（ ）

- A.私营手工业
- B.轻工纺织业
- C.机械制造业
- D.粮食种植业

答案：C

8.南宋时，宋理宗发布诏书，追赠朱嘉为太师、信国公，提倡学习其著作，认为“有补治道”。此后，理学成为官方正统学说。属于朱嘉著作的是（ ）

- A.《日知录》
- B.《资治通鉴》
- C.《四书章句集注》
- D.《春秋繁露》

答案：C

9.甲午战争中，黄海海战是中日海军的一次主力决战。此次战役中，为国捐躯的清军将领是（ ）

- A.叶志超
- B.左宝贵
- C.丁汝昌
- D.邓世昌

答案：D

10.1917 年 2 月，陈独秀在《新青年》发文，“推倒雕琢的阿谀的贵族文学，建设平易的抒情的国民文学”。这篇文章是（ ）

- A.《庶民的胜利》
- B.《文学革命论》
- C.《文学改良刍议》
- D.《我的马克思主义观》

---

答案：B

11.文艺复兴时期的画家们大多在作品中追求和表现时代精神与人格力量，被恩格斯称为“文艺复兴时期的巨人”的是（ ）

- A.莎士比亚.
- B.达·芬奇
- C.但丁
- D.米开朗琪罗

答案：B

12.据统计，1965年我国工农业总产值达到1984亿元，比1962年增长55%；1963年至1965年，平均年增长速度为15.7%，超过“一五”期间的速度。这主要是由于党中央（ ）

- A.坚持独立自主的外交方针
- B.对国民经济进行了适时调整
- C.推进三大改造的顺利完成
- D.提倡科学技术是第一生产力

答案：B

13.1787年宪法确立了美国共和政体，但其仍有明显的局限性，表现为（ ）

- A.政府没有税收权
- B.议员由推荐产生
- C.奴隶制依然存在
- D.各州享有外交权

答案：C

14.1980年，中共中央和国务院决定在深圳、珠海、汕头、厦门试办经济特区。经济特区的特殊性主要体现在（ ）

- A.风土民情
- B.经济政策
- C.历史传统
- D.政治制度

答案：B

15.西方早期殖民扩张活动中，大量贵金属源源不断流入欧洲，引发了（ ）

- A.价格革命
- B.西进运动
- C.农奴制改革
- D.文明开化.

答案：A

---

16.19 世纪中期.欧洲工人运动蓬勃发展，在伦敦成立了“国际工人协会”。该协会又被称为（ ）

- A.第二国际.
- B.共产国际
- C.第一国际
- D.大陆会议

答案：C

17.20 世纪 40 年代末，美国为扶持和控制西欧，通过了援助欧洲的经济计划，一定程度上促进了战后欧洲资本主义经济的恢复。该计划是（ ）

- A.曼哈顿计划
- B.“星球大战”计划
- C.道威斯计划
- D.马歇尔计划

答案：D

18. 20 世纪 50 年代中后期，赫鲁晓夫在经济领域实行了一系列改革。改革的重点在（ ）

- A.服务业
- B.农业
- C.工业
- D.商业

答案：B

19.第一次世界大战后，土耳其爆发的反封建和争取民族独立的运动是（ ）

- A.明治维新
- B.卢德运动
- C.马赫迪大起义
- D.凯末尔革命

答案：D

20.1935 年 12 月，毛泽东在党的活动分子会议上做报告，指出“我们要把敌人营垒中间的一切争斗、缺口、矛盾，统统收集起来，作为反对当前主要敌人之用”。这主要是为了（ ）

- A.联合民族资产阶级反对国民党
- B.在延安开展整风运动
- C.建立广泛的抗日民族统一战线
- D.在根据地进行土地改革

答案：C

21.2020 年 12 月 8 日，中国和尼泊尔两国元首共同向全世界宣布，位于中尼两国交界处的珠穆朗玛峰高程

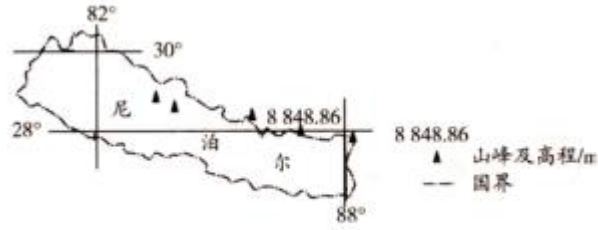


图 1

为 8 848.86 米。图 1 为尼泊尔简图。

据此完成 21~23

题。中国珠峰登山队从北坡登顶，攀登时间宜选择在（ ）

- A. 3 月
- B. 5 月
- C. 7 月
- D. 9 月

答案：B

22. 在 2020 年珠峰高程测量过程中，中国登山队员使用了北斗卫星导航系统。该系统的主要作用是（ ）

- A. 监测登山期间的天气变化
- B. 获取登山位置的定位信息
- C. 管理并分析高程测量数据
- D. 储藏并运送登山生活物资

答案：B

23. 尼泊尔境内及中尼边境分布有多座海拔 8 000 米以上的山峰。这些山峰的形成是（ ）

- A. 亚欧板块和印度洋板块碰撞挤压的结果
- B. 非洲板块内部张裂的结果
- C. 太平洋板块内部张裂的结果
- D. 美洲板块和太平洋板块碰撞挤压的结果

答案：A

24. 家住安徽的小明回家度假。他的房间窗户朝向正西。某日黄昏，小明站在窗前远眺，看到落日正位于窗



图 2

外右前方楼顶的上空(图 2)。

据此完成 24~26 题。此时，落日在小明家的（ ）

- A. 正西方
- B. 东南方
- C. 正北方

D.西北方.

答案: D

25.这个假期可能是 ( )

A.元旦

B.春节

C.端午

D.国庆

答案: C

26.当日,日出时间最接近 ( )

A.5:30.

B.6:30

C.7:30

D.8:30

答案: A

27.小亮在某大学研学期间,发现校园行道树的树穴内覆盖鹅卵石(图3)。这所大学所在城市1月均温在5C



图3

左右。据此完成27~28题。

这所大学可能位于 ( )

A.长春

B.北京

C.杭州

D.昆明

答案: C

28.除美化环境外,树穴内覆盖鹅卵石主要是为了 ( )

A.提高土壤肥力,避免表土养分流失

B.增强地表硬度,防止树穴杂草丛生

C.便于雨水下渗,减少土壤水分蒸发

D.加固树木根基,增加树木的支撑力

答案: C

29.背风群岛(图4)原属西班牙殖民者命名的向风群岛的一部分,后来英国殖民者将其改名为背风群岛,沿用至今。实际上,背风群岛易受飓风侵袭。西方殖民者奴役原住民和黑奴在该群岛种植甘蔗,目前当地仍

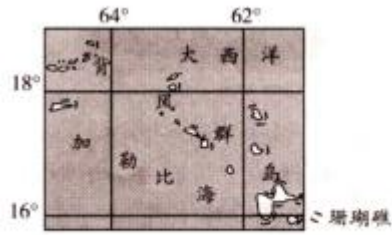


图 4

盛产甘蔗。据此完成 29~30 题。

该群岛一年中大部分时段盛行 ( )

- A. 西北风
- B. 东北风
- C. 西南风
- D. 东南风

答案: B

30. 背风群岛盛产甘蔗的主要优势条件是 ( )

- A. 气候垂直差异显著
- B. 气温日较差大
- C. 水分和热量充足
- D. 火山灰分布范围广

答案: C

31. 云贵高原某山村石多土少, 主要种植水稻和玉米。图 5 示意该村某农户的地块分布(数字表示地块与农户住宅之间的距离), 这些地块的土质和面积接近。据此完成 31~32 题。

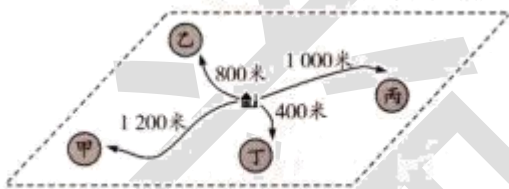


图 5

该农户计划选择 - - 块地种植蔬菜, 最适宜的地块是 ( )

- A. 甲
- B. 乙
- C. 丙
- D. 丁

答案: D

32. 当地难以实现规模化种植, 主要是由于耕地 ( )

- A. 土层较薄
- B. 分布零散
- C. 沙化严重
- D. 质量不均

答案: B

33.甘肃省渭源县(图 6)根据自然环境差异可分为南部高寒阴湿区、中部浅山河谷川(塬)区和北部黄土梁峁沟壑干旱区。该县有“千年药乡”的美誉,盛产多种中药材。以喜温凉的黄芪、喜阴寒的当归、喜凉耐旱的党参产量最大。目前,该县中药材种植已成为乡村振兴的主导产业。据此完成 33~34 题。

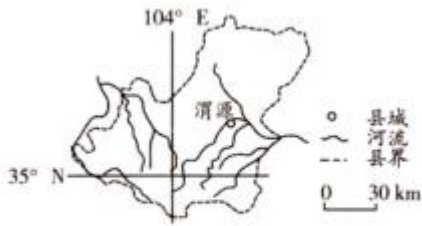


图 6

黄芪、当归、党参在渭源县的适宜种植区依次为 ( )

- A.南部、中部、北部
- B.中部、北部、南部
- C.北部、中部、南部
- D.中部、南部、北部

答案: D

34.依托中药材种植,延长产业链,当地应采取的有效措施是 ( )

- A.推广单一药材种植
- B.扩大药材种植规模
- C.提高药材销售价格
- D.发展药材精深加工

答案: D

35.京津冀城市群、长江三角洲城市群、珠江三角洲城市群、长江中游城市群和成渝城市群是我国人口的主要流入区。图 7 示意 2000-2010 年五大城市群新增流入人口状况,其中相对增速是省际增逸与省内增速的




图 7

比值。据此完成 35~36 题。

2000-2010 年,我国省际流入人口占新增流入人口比重最高的是 ( )

- A.成渝城市群
- B.京津冀城市群
- C.长江中游城市群
- D.长江三角洲城市群

答案: D



36.与沿海城市群相比,内陆城市群的新增流入人口 ( )

- A.省际和省内流入相当
- B.规模较大
- C.省内流动为主
- D.省际流动活跃

答案: C

37.近年来,上海中心城区与周边城镇之间的通勤人数显著增加。图8示意某月上海中心城区与周边通勤热

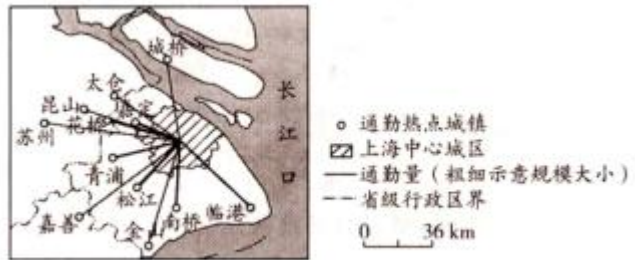


图8

图示

点城镇之间的通勤规模。据此完成 37~38 题。

通勤量大的热点城镇大多 ( )

- A.位于上海市辖区
- B.沿长江两岸分布
- C.空间上趋于集聚.
- D.沿京沪高铁分布

答案: A

38.近年来,上海中心城区与周边城镇之间的通勤人数显著增加,主要得益于 ( )

- A.中心城区就业岗位增多
- B.周边城镇居住成本下降
- C.区际快速交通发展迅速
- D.区域产业联系不断增强

答案: C

39.某城市试点共享单车和共享汽车服务。其中,共享汽车是纯电动汽车,市民利用手机小程序就能快速订车使用。图9示意该城市某工作日不同区域共享单车的停车数量变化。据此完成 39~40 题。

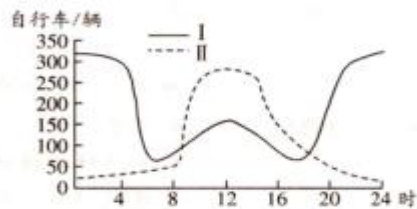


图9

图中 I、II 曲线分别代表 ( )

- A.核心商业区、居住区
- B.办公区、核心商业区
- C.办公区、居住区

D.居住区、办公区

答案：D

40.该城市推出共享汽车，有利于（ ）

A.缓解城市交通拥堵

B.减轻城市大气污染

C.替代城市公共交通

D.节省城市停车空间

答案：B

## 二、问答题

41.回答问题。1924年，孙中山接受中国共产党的意见，确立了“联俄、联共、扶助农工”的三大政策，重新解释三民主义。简述新三民主义与中国共产党民主革命纲领的联系与区别。

答案：(1)联系：新三民主义与中国共产党民主革命纲领的若干基本原则是一致的，是国共两党合作的政治基础。(2)区别：中国共产党民主革命纲领中有彻底实现人民权力、八小时工作制和彻底的土地革命纲领；民主革命阶段之后，还有一个社会主义革命阶段，实现社会主义和共产主义社会的最高革命纲领。新三民主义没有这些内容。

42.阅读材料，回答问题。材料科举制度滥觞于隋而成熟于唐。唐朝科举考试既有每年举行的常科，还有临时不定期由皇帝亲自主持的制科。常科分为秀才、明经、进士、明法等科；制科以策论为主，也考经史与诗赋。士人一旦被录取，“文策高者，特授以美官，其次与出身”。科举制为下层的读书人开辟了一条入仕的道路，有利于国家广泛地选拔经邦治国的优秀人才。——摘编自张岂之主编《中国历史》。简述隋唐时期科举制度的主要内容及影响。

答案：(1)内容：考试分为常科与制科，以进士、明经两科为主；武则天时首创武举与殿试。(2)影响：冲破世家大族垄断仕途的局面；扩大了官吏来源，大批庶族地主知识分子得以参加政权；提高了官员的文化素质；加强了中央集权；为历朝沿用，影响深远。

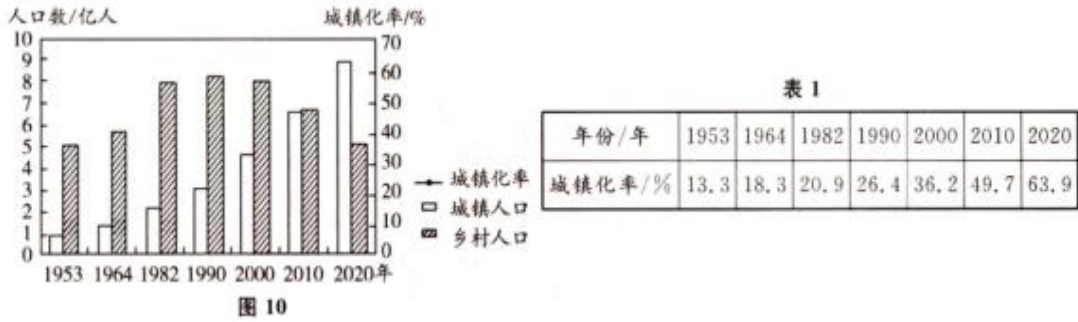
43.阅读材料，回答问题。材料1961年9月，第一次不结盟国家和政府首脑会议在贝尔格莱德举行。出席会议的有25个国家，通过了《会议宣言》。《宣言》宣布：不结盟国家鼓励和支持为自己的独立和平等而进行斗争的各国人民；主张立即无条件地、彻底地和最后废除殖民主义，并共同努力制止各种新殖民主义；强调“和平共处的原则，是代替‘冷战’和可能发生的全面核灾祸的唯一的办法”。《宣言》表示“不结盟国家无意组成一个新的集团而且也不能成为一个集团”。——摘编自齐世荣主编《世界史》。说明不结盟运动兴起的原因及意义。

答案：(1)原因：二战后，民族解放运动蓬勃发展，新兴独立国家反对新老殖民主义，发展民族经济；美苏冷战对峙日益加剧，民族独立国家希望保持和平中立。(2)影响：第三世界崛起，并作为一支独立政治力量

登上国际舞台；一定程度上冲击了美苏两极格局；第三世界在国际事务中日益发挥重要作用，越来越多的第三世界国家加入联合国，为建立国际政治经济新秩序发挥了突出作用。

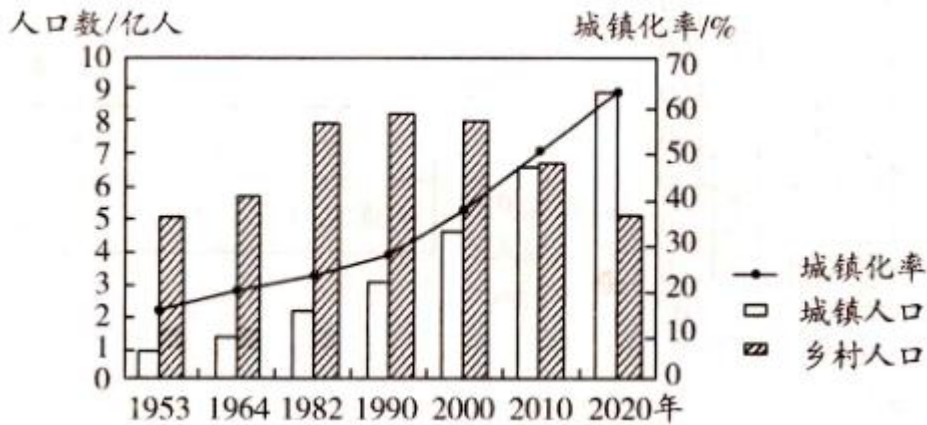
### 三、材料分析题

44. 阅读图表材料，完成下列要求。图 10 示意我国历次人口普查部分数据。表 1 为我国历次人口普查城镇



化率。

(1) (问) 根据表 1 数据，补绘我国城镇化率变化折线。



答案：

(2) (问) 归纳我国城乡人口变化特点。

答案：城镇人口逐渐增加，城镇化率持续提高。1990 年(“四普”)以前乡村人口呈增长趋势，1990 年以后呈下降趋势。2010 年(“六普”)以前乡村人口多于城镇人口，2010 年城乡人口接近，2020 年(“七普”)城镇人口超过乡村人口。

45. 阅读图文材料，完成下列要求。大陆冰川在向海洋运动的过程中，侵蚀海岸，形成槽谷：冰川退却后，海水侵入槽谷，形成峡湾。图 11 所示区域是典型的峡湾分布区之一，其陆地部分在末次冰盛期被巨厚的冰川覆盖，目前仍分布有面积较大的现代冰川。该区域的东南部沿海地区森林茂密。峡湾风光和冰川地貌

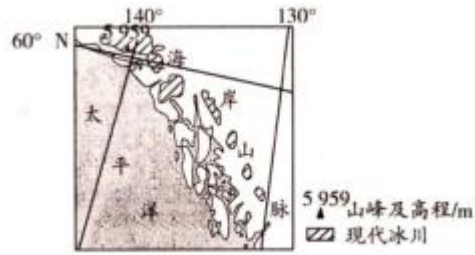


图 11

吸引了众多摄影爱好者和地理学者前往。

(1) (问) 描述图示区域现代冰川的分布特征。

答案：位于山体顶部，不连续块状分布，大致呈西北—东南走向；北部(纬度较高)地区面积较大，南部(纬度较低)地区面积较小。

(2) (问) 分析图示沿海地区森林茂密的自然条件。

答案：地处西风带，沿岸有暖流经过，海岸线曲折，利于暖湿气流进入；暖湿气流遇山地抬升，多降水。

(3) (问) 列举世界其他一处可以观赏到峡湾景观的地方，指出观赏季节并说明理由。

答案：言之有理即可。